

Clase: _____ Nombre: _____



Introducción



Los payasos del video anterior se dirigían a la fiesta de cumpleaños de Felipe, lee las siguientes preguntas, responde y escribe tus respuestas.

- a. Felipe está cumpliendo años el día de hoy, ¿esto significa que su edad aumentó o disminuyó? ¿Tú qué piensas?



- b. Por su cumpleaños la mamá de Felipe le regaló 4 carros de juguete, así que Felipe los guardó en su baúl de juguetes, pero ¿Felipe tendrá más carros de juguete ahora o serán menos? ¿Tú que crees?



- c. El papá de Felipe desea organizarle una fiesta por su cumpleaños y le regala algunos globos de colores, su mamá muy emocionada le regala más globos y Felipe se alegra mucho. Si tú le regalaras globos a Felipe ¿de qué colores le regalarías?



- d. ¿Cuántos colores escribiste?



Objetivos de Aprendizaje

1. El estudiante resuelve problemas aditivos de cambio y combinación.
2. El estudiante reconoce la adición como una operación que describe procesos de cambio.
3. El estudiante reconoce la adición como operación que describe procesos de combinación.



Actividad 1

Lee los enunciados y completa las frases con una de las opciones que se muestran.

- 1 Felipe tenía dos regalos, *sus amigos le dan tres regalos*:

La cantidad de regalos de Francisco



Aumentó



Disminuyó



Sigue igual

- 2 Juanita tenía un banano, *el mago le entregó dos bananos*:

La cantidad de bananos de Juanita



Aumentó



Disminuyó



Sigue igual

- 3 Andrés tenía dos colombinas, *Juanita le regaló seis colombinas*:

La cantidad de colombinas de Andrés



Aumentó



Disminuyó




Sigue igual

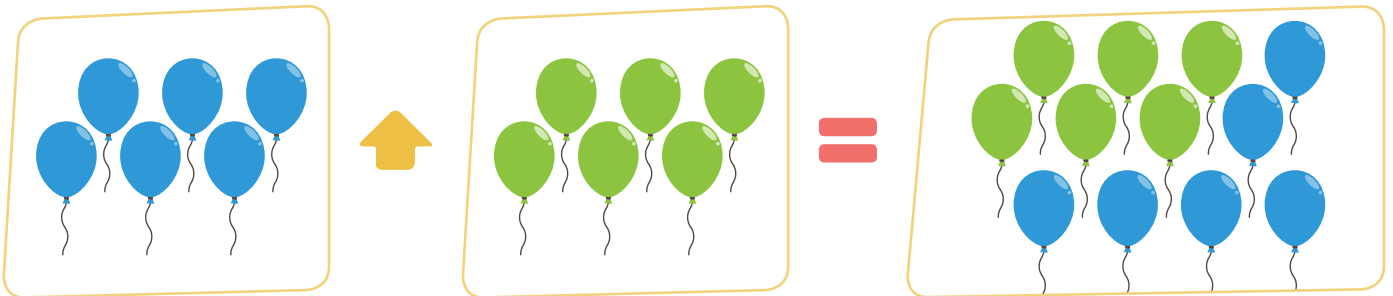
Actividad 2

De acuerdo al video que acabas de ver, observa los siguientes dibujos, cuenta los objetos y completa la frase:


- 1 Primero se subieron al carro payasos, después se subieron payasos; a la fiesta llegaron payasos en total.



- 2 Felipe tiene globos azules, Gustavo tiene globos verdes; Felipe y Gustavo juntos tienen globos en total.





- 3 Juanita tiene manzanas y después Andrés le regala bananos; Juanita tiene frutas en total.



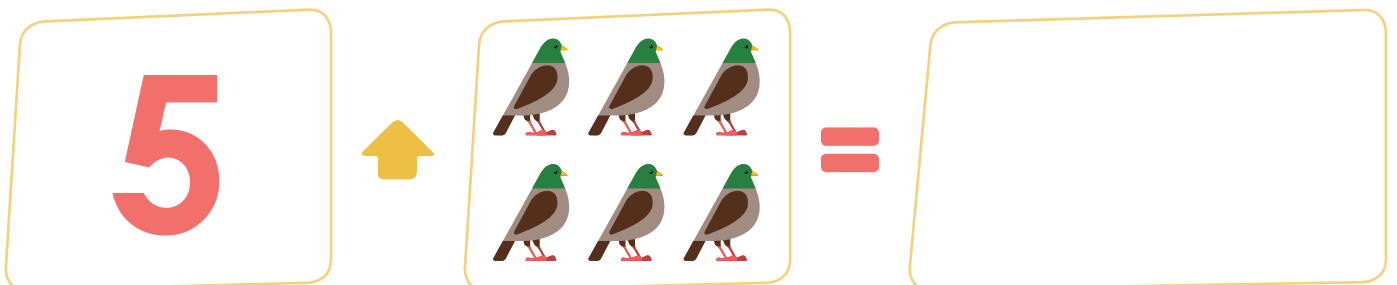
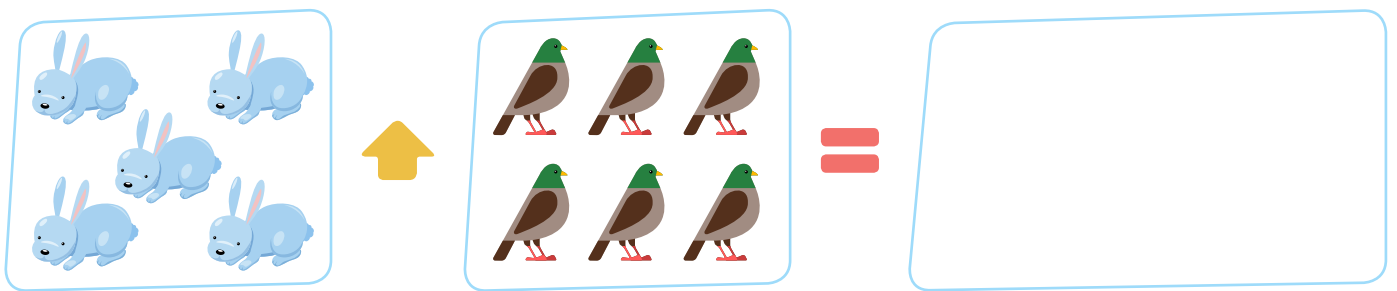
Actividad 3

Observa el dibujo, completa la frase y dibuja el total en los últimos recuadros.

- 1 Primero se subieron al carro payasos, después se subieron al carro payasos; a la fiesta llegaron payasos en total.





- 2 El mago tiene conejos y palomas; para el truco sorpresa el mago tiene animales en total.





Actividad 4

- 1 A la fiesta llevaron colombinas y caramelos; en la fiesta se tienen dulces en total.



- 2 Felipe comió colombinas y caramelos; Felipe se comió en la fiesta dulces en total.



Actividad 5

1 Completa las siguientes frases:

- Felipe tenía 5 carros. En la fiesta Juanita le regaló 6 carros nuevos; Felipe ahora tiene 11 en total.
- Andrés tiene 4 caramelos, Gustavo tiene 3 colombinas; Andrés y Gustavo tienen 7 en total.
- Gustavo tiene 5 globos verdes y 6 globos rojos; Gustavo ahora tiene globos en total.
- Juanita comió al llegar a la fiesta 2 pedazos de torta de chocolate, en la tarde comió 3 pedazos de torta de vainilla; Juanita comió en total pedazos de en total.
- Andrés tiene 8 caramelos y 3 colombinas; Andrés tiene en total.
- Felipe recibió 3 regalos de sus amigos, después su familia le dio 5 regalos; Felipe recibió en total .






Socialización

Actividad 6

De acuerdo a las indicaciones del docente, conforma un grupo de trabajo, responde las siguientes preguntas. En los recuadros inferiores podrás dibujar las situaciones de cada problema.

- 1 Paula ayer tenía 5 muñecas para jugar, pero su tía hoy le regaló 3 muñecas. ¿Cuántas muñecas tiene ahora Paula?



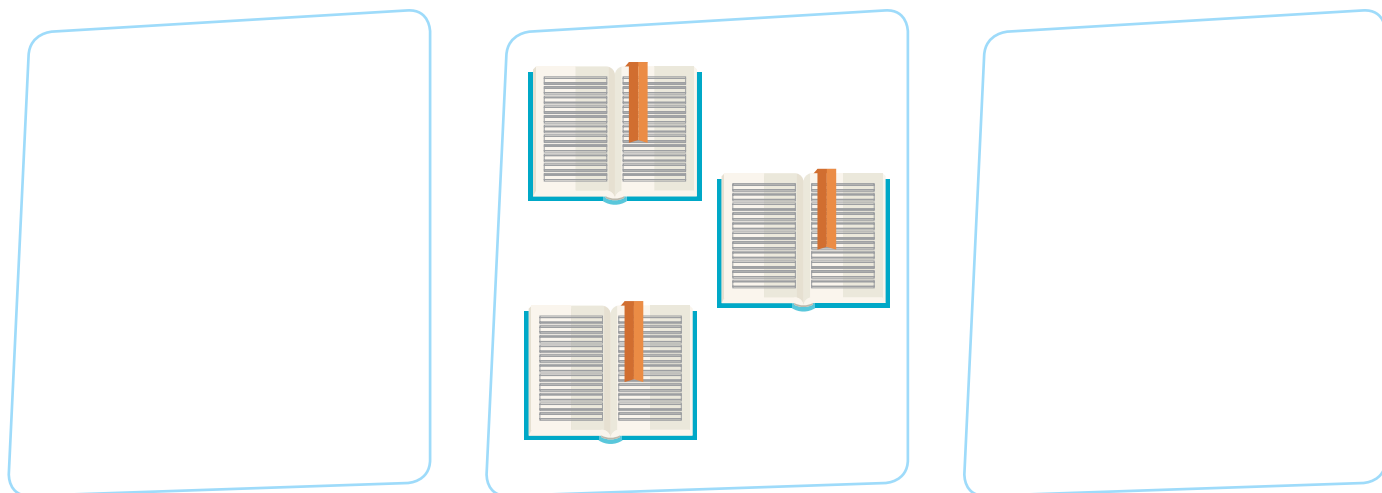
Escribe el número de muñecas que ahora tiene Paula para jugar:

- 2 Carlos tenía 6 canicas, Pedro le regaló 8 canicas. ¿Cuántas canicas tiene Carlos ahora?



Escribe el número de canicas que ahora tiene Pedro:

- 3 Camilo tiene 8 cuadernos cuadriculados y 3 cuadernos ferrocarril. ¿Cuántos cuadernos tiene Camilo en total?



Escribe el número de cuadernos que tiene Camilo en total:

- 4 Responde las siguientes preguntas.

- ¿Cuántas vocales tiene la palabra MATEMÁTICAS?
- ¿Cuántas consonantes tiene la palabra MATEMÁTICAS?
- ¿Cuántas letras tiene la palabra MATEMÁTICAS?

Vocales	Consonantes	
	M T M	
	T C S	

Escribe el número de letras que tiene la palabra MATEMÁTICAS:

Resumen

Completa el siguiente esquema, de acuerdo con lo visto.

El mago sacó 4

de su sombrero.


Después sacó
palomas de su
sombrero.

El mago sacó
animales en total de
su sombrero.

4

3

Para saber el total de que
el mago sacó de su sombrero, contamos desde 4.



 **Tarea**

Responde las siguientes preguntas.

Preguntas

¿Cuántas puertas hay en tu casa?

¿Cuántas ventanas hay en tu casa?

¿Cuántas puertas y ventanas hay en tu casa?

Respuestas**Preguntas**

¿Cuántos pares de zapatos tienes?

¿Cuántos pares de tenis tienes?

¿Cuántos pares de zapatos y tenis tienes?

Respuestas**Preguntas**

¿A qué hora entras a estudiar al colegio los lunes?

¿Cuántas horas estudias en el colegio los lunes?

¿A qué hora sales de estudiar del colegio los lunes?

Respuestas